

ENIGME


Les post-its

On a obtenu la figure ci-dessous en superposant 12 post-its carrés identiques.

Saurez-vous déterminer dans quel ordre ont été disposés ces post-its ?

Numérotez les post-its dans l'ordre.

Quelle disposition obtiendrez-vous si vous retournez la figure ci-dessous ?



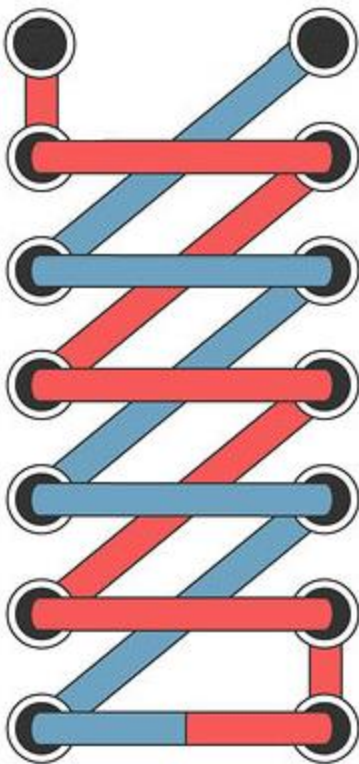
Bulletin réponse à retirer et à déposer à la vie scolaire.

ENIGME

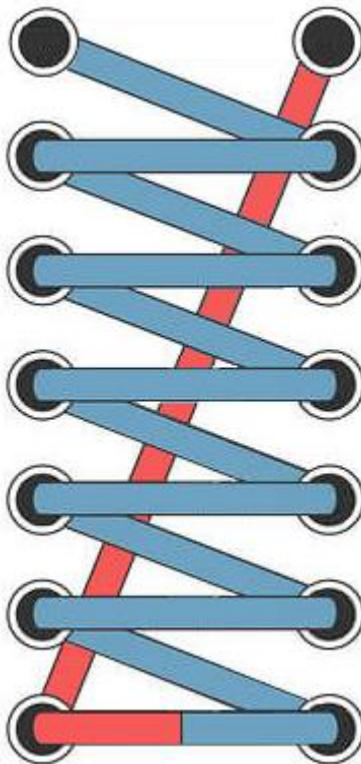
Les lacets

En ce moment Magali cherche à être à la pointe de la mode en laçant ses chaussures de manière originale. Voici trois méthodes différentes qu'elle utilise pour mettre ses lacets.

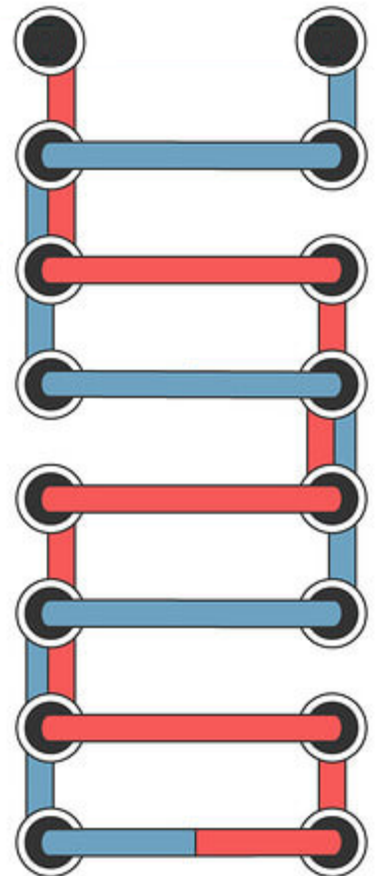
Quelle méthode utilise la longueur de lacet la plus grande ?



Méthode 1



Méthode 2

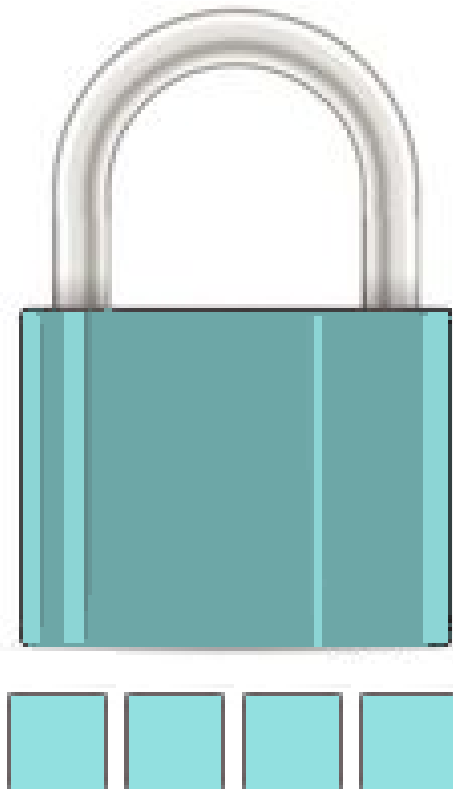


Méthode 3

ENIGME

Le cadenas

Saurez-vous trouver le code de ce cadenas à 4 chiffres ?



5	2	8	0
---	---	---	---

Deux chiffres sont corrects mais mal placés.

2	0	4	6
---	---	---	---

Aucun chiffre n'est correct.

7	6	5	3
---	---	---	---

Un chiffre est correct mais mal placé.

6	8	9	7
---	---	---	---

Deux chiffres sont corrects et bien placés.




Attention, tous les chiffres sont différents.

Nom/Prénom :

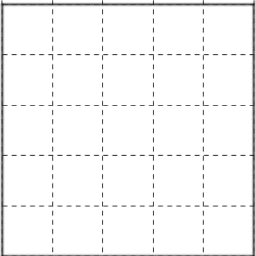
Enigme

Les post-its

Numéroter :



Représenter :




Nom/Prénom :

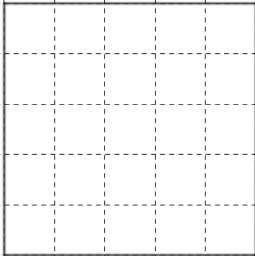
Enigme

Les post-its

Numéroter :



Représenter :




Nom/Prénom :


Enigme

Les post-its

Numéroter :



Représenter :




Nom/Prénom :


Enigme

Les post-its

Numéroter :



Représenter :




Nom/Prénom :


Enigme

Les post-its

Numéroter :



Représenter :




Nom/Prénom :


Enigme

Les post-its

Numéroter :




Représenter :



Nom/Prénom :

Enigme

Le cadenas



Nom/Prénom :

Enigme

Le cadenas



Nom/Prénom :

Enigme

Le cadenas



Nom/Prénom :

Enigme


Le cadenas



Nom/Prénom :

Enigme


Le cadenas



Nom/Prénom :

Enigme

Le cadenas



Nom/Prénom :

Enigme

Les lacets

Calculs lacet 1 :

Calculs lacet 2 :

Calculs lacet 3 :

Conclusion :

Nom/Prénom :

Enigme

Les lacets

Calculs lacet 1 :

Calculs lacet 2 :

Calculs lacet 3 :

Conclusion :

Nom/Prénom :

Enigme

Les lacets

Calculs lacet 1 :

Calculs lacet 2 :

Calculs lacet 3 :

Conclusion :

Nom/Prénom :

Enigme

Les lacets

Calculs lacet 1 :

Calculs lacet 2 :

Calculs lacet 3 :

Conclusion :

Nom/Prénom :

Enigme

Les lacets

Calculs lacet 1 :

Calculs lacet 2 :

Calculs lacet 3 :

Conclusion :

Nom/Prénom :

Enigme

Les lacets

Calculs lacet 1 :

Calculs lacet 2 :

Calculs lacet 3 :

Conclusion :

